























Zeit: 4 Mathe-Stunden (4 UE)
Abgabetermin: Fr, 19.06.20
Selbstkontrolle
LERNZIELE:


- *Ich kann den Mittelwert berechnen.*

- *Ich kann Informationen aus Säulendiagrammen, Kreis- und Liniendiagrammen richtig ablesen.*

- *Ich kann Tabellen und Diagramme in Alltagssituationen verwenden.*

M_{uss} W_{ahl} P_{lus}	Sozialform	AUFGABEN	Feedback
M1	 	Mittelwert - Einführung: Schau Dir bitte das Erklärvideo im ET auf S. 162 in TEAMS an, Registerkarte „ÜT“ oder „ET“, „Erklärvideos“, Kapitel M , Video 2 an. Schreibe eine neue Schulübung mit der Überschrift „Mittelwert“. Schreibe den Inhalt des grünen Wissenskästchens auf S. 162 im ET in dein SÜ-Heft . Mache im ÜT auf S. 116 die Aufgaben 649 b) und 650 in Dein SÜ-Heft . Mache die Cyberhomework 25!	   <input type="checkbox"/> <input type="checkbox"/> <input type="checkbox"/>
W1	 	Mache die für diese Woche gepinnten ANTON :) Aufgaben!	   <input type="checkbox"/> <input type="checkbox"/> <input type="checkbox"/>
M2		Schreibe eine neue Schulübung mit der Überschrift „Säulendiagramme ablesen“. Schreibe den Inhalt des grünen Wissenskästchens auf S. 163 im ET in Dein SÜ-Heft! Mache die Aufgaben 759 und 760 im ET auf S. 163 .	   <input type="checkbox"/> <input type="checkbox"/> <input type="checkbox"/>
P1		Mache im ÜT auf S. 117 die Aufgabe 655 .	   <input type="checkbox"/> <input type="checkbox"/> <input type="checkbox"/>
M3		Schau dir das Erklärvideo auf S. 164 im ET an (Kapitel M , Video 4). Schreibe den Inhalt des grünen Wissenskästchens auf S. 164 im ET in Dein SÜ-Heft . Mache die Aufgaben 761 a) und b) im ET auf S. 164 direkt auf dieses Blatt (nächste Seite)!	   <input type="checkbox"/> <input type="checkbox"/> <input type="checkbox"/>

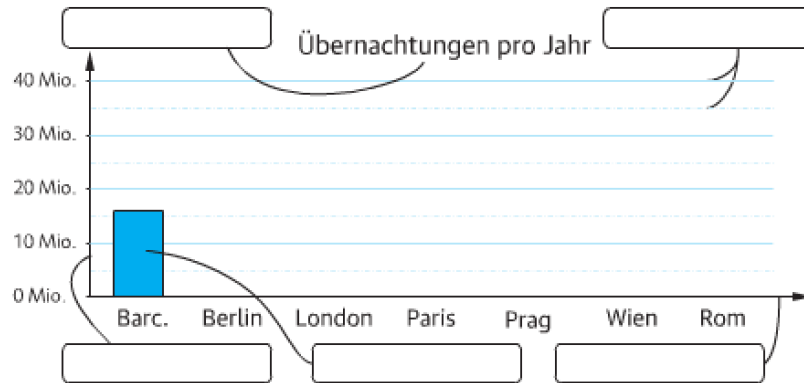
761 Das Diagramm zeigt die Anzahl der Übernachtungen in Hotels und Pensionen großer europäischer Städte.

H1
14

Hinweis: Mio. steht für Millionen.

a) Schreibe die folgenden Begriffe richtig in die Kästchen:

Diagrammtitel Säule waagrechte Achse
senkrechte Achse Hilfslinien



b) Ergänze die Säulen im Diagramm. Verwende die Zahlen aus der Tabelle.

Barcelona	Berlin	London	Paris	Prag	Wien	Rom
16 Mio.	25 Mio.	40 Mio.	37 Mio.	14 Mio.	13 Mio.	23 Mio.

(Quelle: Wikipedia; Daten 2014)

P2	☺	Mache im ÜT auf S. 118 die Aufgabe 659 in Dein SÜ-Heft .	☺ ☹ ☹ ☐ ☐ ☐
M4	☺	Schreibe eine neue Schulübung mit der Überschrift „Kreis- und Liniendiagramme“. Schreibe den Inhalt des grünen Wissenskästchens auf S. 165 im ET in Dein SÜ-Heft. Mache die Aufgaben 661 , 662 und 663 direkt in den ÜT.	☺ ☹ ☹ ☐ ☐ ☐
M5	☺	Schreibe eine neue Schulübung mit der Überschrift „Diagramme und Mittelwert - Anwendungen“. Schreibe den Inhalt des grünen Wissenskästchens auf S. 167 im ET in Dein SÜ-Heft . Mache die Aufgabe 770 a) im ET auf S. 167 direkt in TEAMS . Zeichne die Aufgabe 770) b) in Dein SÜ-Heft.	☺ ☹ ☹ ☐ ☐ ☐
W2	☺	Mache im ET auf S. 167 die Aufgabe 770) c) in Dein SÜ-Heft .	☺ ☹ ☹ ☐ ☐ ☐
P3	☺	Mache den Checkpoint auf S. 168 im ET in Dein SÜ-Heft!	☺ ☹ ☹ ☐ ☐ ☐

